



Questions à choix simple, multiple ou ouvertes

Rappel. Le symbole ♣ indique que les questions peuvent comporter aucune, une ou plusieurs bonnes réponses : réfléchissez, vite mais correctement. Barème (sauf questions ouvertes) : 1 point (case cochée ou non cochée à bon escient) ; -0,5 point (mauvaise réponse, oubli).

Question 1 Par rapport à l'ensemble du trafic de produits commerciaux, les transports maritimes représentent environ...

- | | |
|---------------------------------|---------------------------------|
| <input type="checkbox"/> A 60 % | <input type="checkbox"/> D 70 % |
| <input type="checkbox"/> B 90 % | <input type="checkbox"/> E 50 % |
| <input type="checkbox"/> C 80 % | |

Question 2 Par rapport à l'ensemble de l'eau disponible sur Terre, les espaces maritimes en représentent environ...

- | | |
|---------------------------------|---------------------------------|
| <input type="checkbox"/> A 70 % | <input type="checkbox"/> D 97 % |
| <input type="checkbox"/> B 90 % | <input type="checkbox"/> E 80 % |
| <input type="checkbox"/> C 87 % | <input type="checkbox"/> F 77 % |

Question 3 Par rapport à la surface de la planète, les espaces maritimes représentent environ...

- | | |
|---------------------------------|---------------------------------|
| <input type="checkbox"/> A 61 % | <input type="checkbox"/> C 91 % |
| <input type="checkbox"/> B 81 % | <input type="checkbox"/> D 71 % |

Question 4 Combien d'États disposent d'un accès direct à la mer ?

- | | |
|--------------------------------|--------------------------------|
| <input type="checkbox"/> A 154 | <input type="checkbox"/> D 150 |
| <input type="checkbox"/> B 152 | <input type="checkbox"/> E 151 |
| <input type="checkbox"/> C 155 | <input type="checkbox"/> F 153 |

Question 5 Quelle est la part de la population mondiale qui vit à moins de 100 km des côtes maritimes ?

- | | |
|---------------------------------|---------------------------------|
| <input type="checkbox"/> A 48 % | <input type="checkbox"/> D 50 % |
| <input type="checkbox"/> B 38 % | <input type="checkbox"/> E 33 % |
| <input type="checkbox"/> C 28 % | <input type="checkbox"/> F 25 % |

Question 6 Qu'est qu'une « ZIP » ?

- | | |
|---|---|
| <input type="checkbox"/> A une zone industrielle portugaise | <input type="checkbox"/> D une zone intégralement portuaire |
| <input type="checkbox"/> B une zone d'intérêt portuaire | <input type="checkbox"/> E une zone industrialo-portuaire |
| <input type="checkbox"/> C la marque d'un célèbre briquet américain | <input type="checkbox"/> F une zone d'importance portuaire |



Question 7 ♣ La France possède...

- A Une ZEE d'environ 11 millions de km²
- B La troisième ZEE mondiale
- C La deuxième ZEE mondiale
- D La première ZEE mondiale
- E Une ZEE d'environ 10 millions de km²
- F Une ZEE d'environ 12 millions de km²
- G *None of these answers are correct.*

Question 8 ♣ Une ZEE est...

- A une zone maritime large d'environ 370 kn (milles marins)
- B une zone maritime excluant les eaux territoriales d'un État côtier
- C une zone économique exclusive
- D une zone maritime large d'environ 370 km
- E une zone économiquement exclusive
- F une zone exclusivement économique
- G Une zone maritime large d'environ 200 km
- H une zone exclusive élargie
- I une zone maritime incluant les eaux territoriales d'un État côtier
- J une zone maritime large d'environ 200 kn (milles marins)
- K *None of these answers are correct.*

Question 9 Qu'est-ce qu'un gisement *offshore* (0, 1 ou 2 points selon la réponse)

Question 10 Par un croquis et une explication écrite, montrez comment fonctionne les échanges maritimes (0, 2 ou 4 points selon la réponse)

Question 11 Expliquez l'importance (actuelle et à venir) de l'océan arctique dans les échanges maritimes mondiaux (0, 1,5 ou 3 points selon la réponse)

Question 12 Quelles sont les régions mondiales privilégiées par les échanges maritimes (0, 2 ou 4 points selon la réponse)

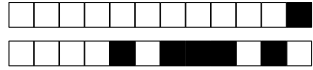
Question 13 Qu'est-ce que des « ressources halieutiques » ? (0, 1 ou 2 points selon la réponse)

Question 14 Donnez trois exemples de sources d'énergie offertes par les espaces maritimes (0, 1 ou 2 points selon la réponse)

Question 15 Définir le terme de « maritimisation » (0, 0,5 ou 1 point selon la réponse)

Question 16 Définir ce qu'est une « route maritime » (0, 0,5 ou 1 point selon la réponse)

Question 17 Définir ce qu'est la « mondialisation » (0, 0,5 ou 1 point selon la réponse)



0 1 2 3 4 5 6 7 8 9

Nom et prénom :

Indiquez vos réponses définitives en noircissant bien les cases.

Qu. 1 A B C D E

Qu. 2 A B C D E F

Qu. 3 A B C D

Qu. 4 A B C D E F

Qu. 5 A B C D E F

Qu. 6 A B C D E F

Qu. 7 A B C D E F G

Qu. 8 A B C D E F G H I J K

Qu. 9 F P J

.....

Qu. 10 F P J

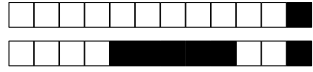
.....

Qu. 11 F P J

.....

Qu. 12 F P J

.....



Qu. 13

F P J

.....

Qu. 14

F P J

.....

Qu. 15

F P J

.....

Qu. 16

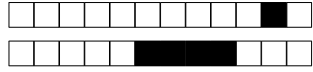
F P J

.....

Qu. 17

F P J

.....

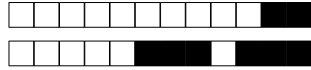


0 1 2 3 4 5 6 7 8 9

0 1 2 3 4 5 6 7 8 9

Nom et prénom :

Indiquez vos réponses définitives en noircissant bien les cases.

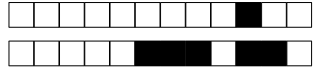


0 1 2 3 4 5 6 7 8 9

0 1 2 3 4 5 6 7 8 9

Nom et prénom :

Indiquez vos réponses définitives en noircissant bien les cases.

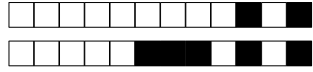


0 1 2 3 4 5 6 7 8 9

0 1 2 3 4 5 6 7 8 9

Nom et prénom :

Indiquez vos réponses définitives en noircissant bien les cases.

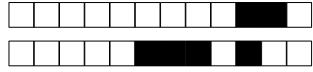


0 1 2 3 4 5 6 7 8 9

0 1 2 3 4 5 6 7 8 9

Nom et prénom :

Indiquez vos réponses définitives en noircissant bien les cases.



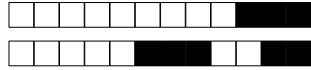
+6/1/52+

0 1 2 3 4 5 6 7 8 9

0 1 2 3 4 5 6 7 8 9

Nom et prénom :

Indiquez vos réponses définitives en noircissant bien les cases.



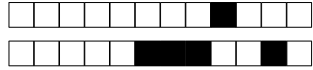
+7/1/51+

0 1 2 3 4 5 6 7 8 9

0 1 2 3 4 5 6 7 8 9

Nom et prénom :

Indiquez vos réponses définitives en noircissant bien les cases.

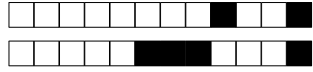


0 1 2 3 4 5 6 7 8 9

0 1 2 3 4 5 6 7 8 9

Nom et prénom :

Indiquez vos réponses définitives en noircissant bien les cases.

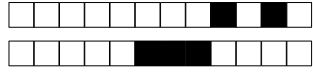


0 1 2 3 4 5 6 7 8 9

0 1 2 3 4 5 6 7 8 9

Nom et prénom :

Indiquez vos réponses définitives en noircissant bien les cases.



+10/1/48+

0 1 2 3 4 5 6 7 8 9

0 1 2 3 4 5 6 7 8 9

Nom et prénom :

Indiquez vos réponses définitives en noircissant bien les cases.



0 1 2 3 4 5 6 7 8 9

0 1 2 3 4 5 6 7 8 9

Nom et prénom :

Indiquez vos réponses définitives en noircissant bien les cases.



+12/1/46+

0 1 2 3 4 5 6 7 8 9

0 1 2 3 4 5 6 7 8 9

Nom et prénom :

Indiquez vos réponses définitives en noircissant bien les cases.



0 1 2 3 4 5 6 7 8 9

0 1 2 3 4 5 6 7 8 9

Nom et prénom :

Indiquez vos réponses définitives en noircissant bien les cases.



+14/1/44+

0 1 2 3 4 5 6 7 8 9

0 1 2 3 4 5 6 7 8 9

Nom et prénom :

Indiquez vos réponses définitives en noircissant bien les cases.



0 1 2 3 4 5 6 7 8 9

0 1 2 3 4 5 6 7 8 9

Nom et prénom :

Indiquez vos réponses définitives en noircissant bien les cases.



+16/1/42+

0 1 2 3 4 5 6 7 8 9

0 1 2 3 4 5 6 7 8 9

Nom et prénom :

Indiquez vos réponses définitives en noircissant bien les cases.



+17/1/41+

0 1 2 3 4 5 6 7 8 9

0 1 2 3 4 5 6 7 8 9

Nom et prénom :

Indiquez vos réponses définitives en noircissant bien les cases.



+18/1/40+

0 1 2 3 4 5 6 7 8 9

0 1 2 3 4 5 6 7 8 9

Nom et prénom :

Indiquez vos réponses définitives en noircissant bien les cases.



0 1 2 3 4 5 6 7 8 9

0 1 2 3 4 5 6 7 8 9

Nom et prénom :

Indiquez vos réponses définitives en noircissant bien les cases.



+20/1/38+

0 1 2 3 4 5 6 7 8 9

0 1 2 3 4 5 6 7 8 9

Nom et prénom :

Indiquez vos réponses définitives en noircissant bien les cases.



0 1 2 3 4 5 6 7 8 9

0 1 2 3 4 5 6 7 8 9

Nom et prénom :

Indiquez vos réponses définitives en noircissant bien les cases.



0 1 2 3 4 5 6 7 8 9

0 1 2 3 4 5 6 7 8 9

Nom et prénom :

Indiquez vos réponses définitives en noircissant bien les cases.



0 1 2 3 4 5 6 7 8 9

0 1 2 3 4 5 6 7 8 9

Nom et prénom :

Indiquez vos réponses définitives en noircissant bien les cases.