



Devoir surveillé N°1

0 1 2 3 4 5 6 7 8 9
0 1 2 3 4 5 6 7 8 9
0 1 2 3 4 5 6 7 8 9

← Veuillez coder votre numéro d'étudiant ci-contre et écrire votre nom dans la case ci-dessous.

Nom et prénom :

.....

.....

Les questions faisant apparaître le symbole ♣ peuvent présenter une ou plusieurs bonnes réponses. Les autres ont une unique bonne réponse. L'indiquer sur cette feuille en noircissant la case correspondante au stylo à bille noir. Aucune justification n'est demandée. Les réponses fausses retirent la moitié des points. Une absence de réponse n'enlève pas de points. Pour rectifier une erreur, utilisez un correcteur "blanc" pour faire disparaître complètement la case noircie par erreur.

Les deux questions suivantes concernent Martin Luther King.

Question 1 Dans quelle ville est-il né ?

- Atlanta
- New York
- Memphis

Question 2 En quelle année est-il mort ?

- 1945
- 1515
- 1968
- 1999

Fin des questions sur Martin Luther King.

Question 3 ♣ Parmi les nombres suivants, lesquels sont positifs ?

- 2
- 10
- 2

Question 4 Quelle est la capitale du Cameroun ?

- Yaoundé
- Kribi
- Douala

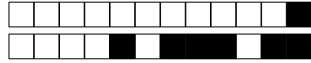
Les deux questions suivantes sont des questions ouvertes.

Question 5 Énoncer le théorème de Pythagore : AB B TB Zone réservée, ne pas cocher.

.....

.....

.....



Question 6 Décrivez la figure suivante :



AB B TB Zone réservée, ne pas cocher.

.....

.....

.....

Fin des questions ouvertes.



Devoir surveillé N°1

0 1 2 3 4 5 6 7 8 9
0 1 2 3 4 5 6 7 8 9
0 1 2 3 4 5 6 7 8 9

← Veuillez coder votre numéro d'étudiant ci-contre et écrire votre nom dans la case ci-dessous.

Nom et prénom :

.....

.....

Les questions faisant apparaître le symbole ♣ peuvent présenter une ou plusieurs bonnes réponses. Les autres ont une unique bonne réponse. L'indiquer sur cette feuille en noircissant la case correspondante au stylo à bille noir. Aucune justification n'est demandée. Les réponses fausses retirent la moitié des points. Une absence de réponse n'enlève pas de points. Pour rectifier une erreur, utilisez un correcteur "blanc" pour faire disparaître complètement la case noircie par erreur.

Les deux questions suivantes sont des questions ouvertes.

Question 1 Dessiner un triangle rectangle : AB B TB Zone réservée, ne pas cocher.

.....

.....

.....

Question 2 Enoncer le théorème de Pythagore : AB B TB Zone réservée, ne pas cocher.

.....

.....

.....

Fin des questions ouvertes.

Question 3 ♣ Parmi les nombres suivants, lesquels sont positifs ?

10 2 -2



Question 4 Quelle est la capitale du Cameroun ?

- Kribi Yaoundé Douala

Les deux questions suivantes concernent Martin Luther King.

Question 5 Dans quelle ville est-il né ?

- New York
 Memphis
 Atlanta

Question 6 En quelle année est-il né ?

- 1929
 1968
 1901

Fin des questions sur Martin Luther King.



Devoir surveillé N°1

0 1 2 3 4 5 6 7 8 9
0 1 2 3 4 5 6 7 8 9
0 1 2 3 4 5 6 7 8 9

← Veuillez coder votre numéro d'étudiant ci-contre et écrire votre nom dans la case ci-dessous.

Nom et prénom :

.....

.....

Les questions faisant apparaître le symbole ♣ peuvent présenter une ou plusieurs bonnes réponses. Les autres ont une unique bonne réponse. L'indiquer sur cette feuille en noircissant la case correspondante au stylo à bille noir. Aucune justification n'est demandée. Les réponses fausses retirent la moitié des points. Une absence de réponse n'enlève pas de points. Pour rectifier une erreur, utilisez un correcteur "blanc" pour faire disparaître complètement la case noircie par erreur.

Question 1 Quelle est la capitale du Cameroun ?

Yaoundé Kribi Douala

Question 2 ♣ Parmi les nombres suivants, lesquels sont positifs ?

2 -2 10

Les deux questions suivantes sont des questions ouvertes.

Question 3 Décrivez la figure suivante :



AB B TB Zone réservée, ne pas cocher.

.....

.....

.....



Question 4 Enoncer le théorème de Pythagore : AB B TB Zone réservée, ne pas cocher.

.....

.....

.....

Fin des questions ouvertes.

Les deux questions suivantes concernent Martin Luther King.

Question 5 En quelle année est-il mort ?

- 1968
- 1515
- 1999
- 1945

Question 6 En quelle année est-il né ?

- 1968
- 1929
- 1901

Fin des questions sur Martin Luther King.



Devoir surveillé N°1

0 1 2 3 4 5 6 7 8 9
0 1 2 3 4 5 6 7 8 9
0 1 2 3 4 5 6 7 8 9

← Veuillez coder votre numéro d'étudiant ci-contre et écrire votre nom dans la case ci-dessous.

Nom et prénom :

.....

.....

Les questions faisant apparaître le symbole ♣ peuvent présenter une ou plusieurs bonnes réponses. Les autres ont une unique bonne réponse. L'indiquer sur cette feuille en noircissant la case correspondante au stylo à bille noir. Aucune justification n'est demandée. Les réponses fausses retirent la moitié des points. Une absence de réponse n'enlève pas de points. Pour rectifier une erreur, utilisez un correcteur "blanc" pour faire disparaître complètement la case noircie par erreur.

Question 1 Quelle est la capitale du Cameroun ?

Douala Kribi Yaoundé

Les deux questions suivantes sont des questions ouvertes.

Question 2 Énoncer le théorème de Pythagore : AB B TB Zone réservée, ne pas cocher.

.....

.....

.....

Question 3 Dessiner un triangle rectangle : AB B TB Zone réservée, ne pas cocher.

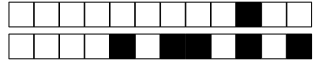
.....

.....

.....

Fin des questions ouvertes.

Les deux questions suivantes concernent Martin Luther King.



Question 4 En quelle année est-il né ?

- 1901
- 1968
- 1929

Question 5 En quelle année est-il mort ?

- 1999
- 1968
- 1945
- 1515

Fin des questions sur Martin Luther King.

Question 6 ♣ Parmi les nombres suivants, lesquels sont positifs ?

- 2
- 2
- 10



Devoir surveillé N°1

0 1 2 3 4 5 6 7 8 9
0 1 2 3 4 5 6 7 8 9
0 1 2 3 4 5 6 7 8 9

← Veuillez coder votre numéro d'étudiant ci-contre et écrire votre nom dans la case ci-dessous.

Nom et prénom :

Les questions faisant apparaître le symbole ♣ peuvent présenter une ou plusieurs bonnes réponses. Les autres ont une unique bonne réponse. L'indiquer sur cette feuille en noircissant la case correspondante au stylo à bille noir. Aucune justification n'est demandée. Les réponses fausses retirent la moitié des points. Une absence de réponse n'enlève pas de points. Pour rectifier une erreur, utilisez un correcteur "blanc" pour faire disparaître complètement la case noircie par erreur.

Question 1 ♣ Parmi les nombres suivants, lesquels sont positifs ?

2 10 -2

Les deux questions suivantes concernent Martin Luther King.

Question 2 En quelle année est-il né ?

1929
 1968
 1901

Question 3 Dans quelle ville est-il né ?

Atlanta
 Memphis
 New York

Fin des questions sur Martin Luther King.

Question 4 Quelle est la capitale du Cameroun ?

Yaoundé Douala Kribi

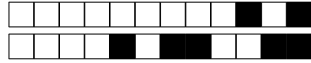
Les deux questions suivantes sont des questions ouvertes.

Question 5 Énoncer le théorème de Pythagore : AB B TB Zone réservée, ne pas cocher.

.....

.....

.....



Question 6 Décrivez la figure suivante :



AB B TB Zone réservée, ne pas cocher.

.....

.....

.....

Fin des questions ouvertes.